

Урок 32















Практична робота № 4.

Тема. Складання картосхеми типології країн Америки за рівнем їх економічного розвитку.









Мета: навести приклади країн Америки, що належать до різних типів та підтипів за рівнем економічного розвитку та позначити їх умовними знаками на контурній карті у формі картосхеми; вдосконалювати вміння аналізувати та порівнювати, робити висновки.

Хід роботи

Південна Америка

| | | |
|---|--|---|
| Аргентина  | Еквадор  | Перу  |
| Болівія  | Фолклендські Острови  | Суринам  |
| Бразилія  | Французька Гвіана  | Уругвай  |
| Чилі  | Гаяна  | Венесуела  |
| Колумбія  | Парагвай  | |

Кариби

| | |
|--|---|
| Ангілья  | Британські Віргінські Острови  |
| Антигуа і Барбуда  | Кайманові Острови  |
| Аруба  | Куба  |
| Багамські Острови  | Кюрасао  |
| Барбадос  | Домініка  |
| Карибські Нідерланди  | Домініканська Республіка  |

Кариби









| | |
|---|---|
| Гренада  | Сінт-Мартен  |
| Гваделупа  | Сент-Вінсент і Гренадіни  |
| Гаїті  | Сінт-Мартен  |
| Ямайка  | Тринідад і Тобаго  |
| Мартиніка  | Острови Теркс і Кайкос  |
| Монтсеррат  | Американські Віргінські Острови  |
| Пуерто-Рико  | |
| Сен-Бартельмі  | |
| Сент-Кітс і Невіс  | |

Північна Америка

| |
|--|
| Бермудські Острови  |
| Канада  |
| Гренландія  |
| Сен-П'єр і Мікелон  |
| США  |



Центральна Америка

| | |
|--|---|
| Беліз  | Гондурас  |
| Коста-Рика  | Нікарагуа  |
| Кліппертон  | Панама  |
| Сальвадор  | Гватемала  |



Завдання 1. Пригадайте та запишіть назви субрегіонів Америки.

Завдання 2. За довідковою таблицею розподіліть країни Америки за їх рівнем економічного розвитку відповідно до існуючої типології. Результати запишіть у зведену таблицю, вказавши приклади країн, що належать до різних типів та підтипів, враховуючи їх розташування в межах різних субрегіонів Америки.

| Типи та підтипи країн, їх кількість | Назви країн | Субрегіон |
|--|-------------|-----------|
| <i>1. Високорозвинуті країни (2)</i> | | |
| <i>Країни «великої сімки» (2)</i> | | |
| <i>2. Країни, що розвиваються (32)</i> | | |
| Нові індустріальні країни (3) | | |
| Нафтодобувні країни (2) | | |
| Країни «дрібні острови» (11) | | |
| Країни великого потенціалу (15) | | |
| Найменш розвинуті країни (1) | | |
| <i>3. Країни з плановою економікою (1)</i> | | |
| Країна з централізованою економікою | | |

Завдання 3. Для найбільших за площею країн вкажіть показник ВВП та ВВП на особу.

Завдання 5. У висновку запишіть, у яких субрегіонах Америки, які країни переважають за рівнем економічного розвитку.